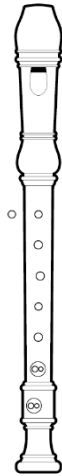
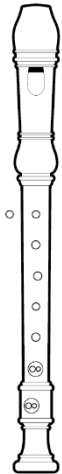


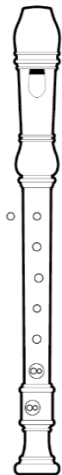
- (1) 次の音をソプラノリコーダーで吹く場合、どのような運指になるか。右のリコーダーの図に書き入れなさい。



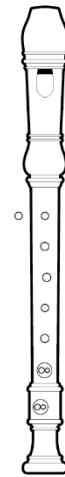
- (2) 次の音をソプラノリコーダーで吹く場合、どのような運指になるか。右のリコーダーの図に書き入れなさい。



- (3) 次の音をソプラノリコーダーで吹く場合、どのような運指になるか。右のリコーダーの図に書き入れなさい。



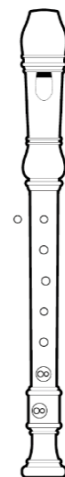
(4) 次の音をソプラノリコーダーで吹く場合、どのような運指になるか。右のリコーダーの図に書き入れなさい。



(5) 次の音をソプラノリコーダーで吹く場合、どのような運指になるか。右のリコーダーの図に書き入れなさい。



(6) 次の音をソプラノリコーダーで吹く場合、どのような運指になるか。右のリコーダーの図に書き入れなさい。



(7) 次の音をソプラノリコーダーで吹く場合、どのような運指になるか。右のリコーダーの図に書き入れなさい。



(8) 次の音をソプラノリコーダーで吹く場合、どのような運指になるか。右のリコーダーの図に書き入れなさい。



(9) 次の音をソプラノリコーダーで吹く場合、どのような運指になるか。右のリコーダーの図に書き入れなさい。



(10) 次の音をソプラノリコーダーで吹く場合、どのような運指になるか。右のリコーダーの図に書き入れなさい。



(11) 次の音をソプラノリコーダーで吹く場合、どのような運指になるか。右のリコーダーの図に書き入れなさい。



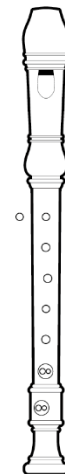
(12) 次の音をソプラノリコーダーで吹く場合、どのような運指になるか。右のリコーダーの図に書き入れなさい。



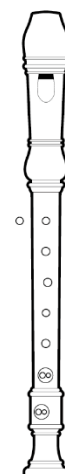
(1 3) 次の音をソプラノリコーダーで吹く場合、どのような運指になるか。右のリコーダーの図に書き入れなさい。



(1 4) 次の音をソプラノリコーダーで吹く場合、どのような運指になるか。右のリコーダーの図に書き入れなさい。

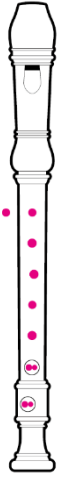


(1 5) 次の音をソプラノリコーダーで吹く場合、どのような運指になるか。右のリコーダーの図に書き入れなさい。



【解答】

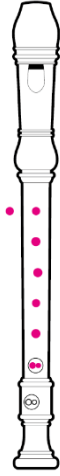
(1)



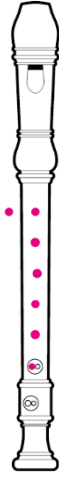
(2)



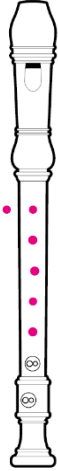
(3)



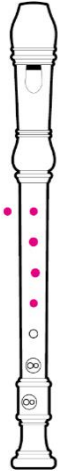
(4)




(5)



(6)



ジャーマン式



バロック式

(7)



ジャーマン式



バロック式

(8)



(9)



(10)



(11)



(12)



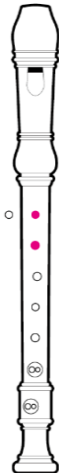
替え指



(13)



(14)



(15)

